
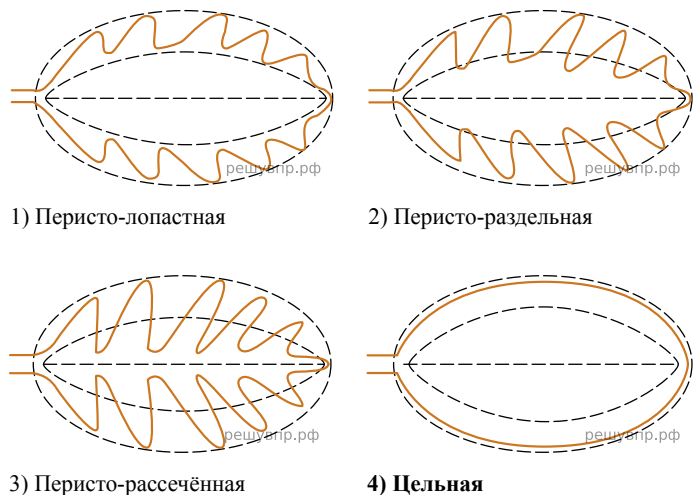



Рассмотрите изображение листа и опишите его по следующему плану: форма листа, жилкование листа, тип листа по соотношению длины и ширины листовая пластинки (без черешка) и по расположению наиболее широкой части. Используйте при выполнении задания линейку и карандаш.



**А. Форма листа**



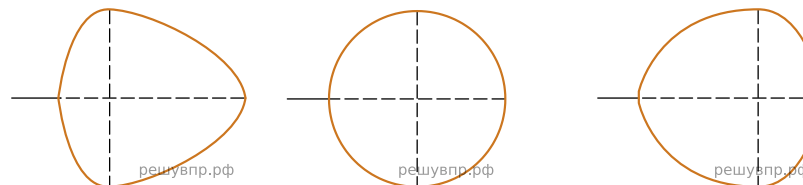
**Б. Жилкование листа**



- 1) Параллельное 2) Дуговидное 3) Пальчатое 4) Перисто-сетчатое

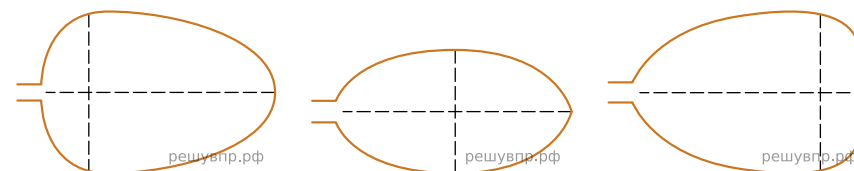
**В. Тип листа**

Длина равна ширине или немного её превышает.



- 1) Широкояйцевидный 2) Округлый 3) Обратнo-широкояйцевидный

Длина превышает ширину в 1.5-2 раза.



- 4) Яйцевидный 5) Овальный 6) Обратнo-яйцевидный

Запишите в ответ цифры, расположив их в порядке, соответствующем буквам:

А	Б	В