





Рассмотрите фотографию собаки породы жесткошерстная такса и выполните задания. Выберите характеристики, соответствующие внешнему строению собаки, по следующему плану: окрас шерсти, форма ушей, форма хвоста.



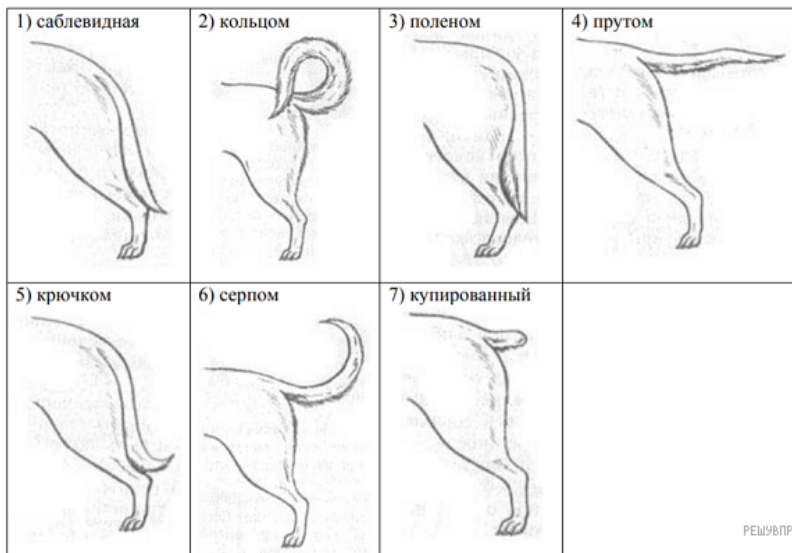
А. Окрас

<p>1) однотонный</p>  <p>окрас-пегий</p>	<p>2) пятнистый (два и более пятна)</p> 
<p>3) чепрачный (одно пятно)</p> 	<p>4) подпалый</p>  <p>РЕШУВПР.РФ</p>

Б. Форма ушей

<p>1) стоячие</p> 	<p>2) полустоячие</p> 	<p>3) развешенные</p> 
<p>4) висячие</p> 	<p>5) сближенные</p> 	<p>6) сильно укороченные</p>  <p>РЕШУВПР.РФ</p>

В. Форма хвоста



Запишите в ответ цифры, расположив их в порядке, соответствующем буквам:

А	Б	В
<input type="text"/>	<input type="text"/>	<input type="text"/>