

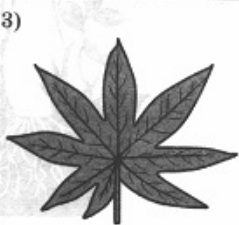



Опишите лист монстеры по следующему плану: тип листа; жилкование листа; тип листа по соотношению длины, ширины, расположению наиболее широкой части. Используйте при выполнении задания линейку и карандаш.

А. Тип листа

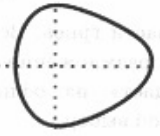

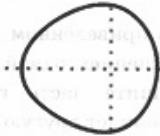

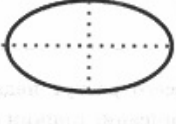
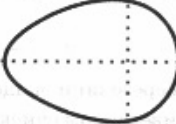
- 1) черешковый
- 2) сидячий

Б. Жилкование листа

| | | | |
|---|---|---|---|
| 1) | 2) | 3) | 4) |
|  |  |  |  |
| параллельное | дуговидное | пальчатое | перисто-сетчатое |



В. Тип листа по соотношению длины, ширины и по расположению наиболее широкой части.

| | | |
|---|---|--|
| Длина равна ширине или немного её превышает | | |
| 1) широкояйцевидный | 2) округлый | 3) обратно-широкояйцевидный |
|  |  |  |
| Длина превышает ширину в 1,5–2 раза | | |
| 4) яйцевидный | 5) овальный | 6) обратно-яйцевидный |
|  |  |  |

Впишите в таблицу цифры выбранных ответов под соответствующими буквами.

| | | |
|---|---|---|
| А | Б | В |
| | | |