



Прочитайте утверждения о живой природе и деятельности человека. Составьте графические записи этих утверждений. Выбирайте нужные символы из списка и группируйте их в правильной последовательности. В ответе запишите последовательность соответствующих утверждению цифр.

**Природа даёт человеку пищу, одежду, жильё.**


А → 
 Б → 
 В → 
 Г → 
 Д




1




2



3



4



5

РЕШУ ВПР.РФ

Запишите в ответ цифры, расположив их в порядке, соответствующем буквам:

А	Б	В	Г	Д