





Опишите лист берёзы по следующему плану: тип листа; жилкование листа; форма листа по соотношению длины, ширины и по расположению наиболее широкой части. Используйте при выполнении задания линейку и карандаш.



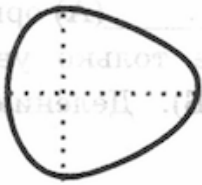
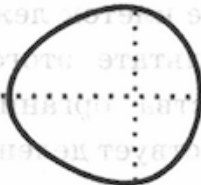
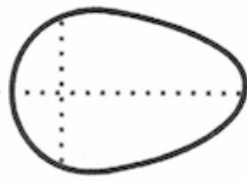
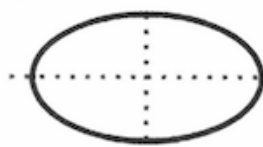

А. Тип листа

- 1) черешковый
- 2) сидячий

Б. Жилкование листа

1) 	2) 	3) 	4) 
параллельное	дуговидное	пальчатое	перисто-сетчатое

В. Тип листа по соотношению длины, ширины и по расположению наиболее широкой части

Длина равна ширине или немного её превышает		
1) широкояйцевидный 	2) округлый 	3) обратно-широкояйцевидный 
Длина превышает ширину в 1,5–2 раза		
4) яйцевидный 	5) овальный 	6) обратно-яйцевидный 

Запишите в ответ цифры, расположив их в порядке, соответствующем буквам:

А	Б	В