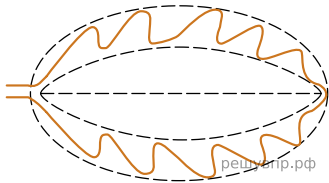


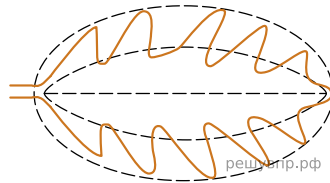
Рассмотрите изображение листа крапивы и опишите его по следующему плану: форма листа, жилкование листа, тип листа по соотношению длины и ширины листовой пластинки (без черешка) и по расположению наиболее широкой части. Используйте при выполнении задания линейку и карандаш.



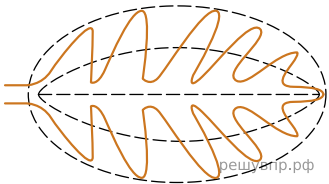
**А. Форма листа**



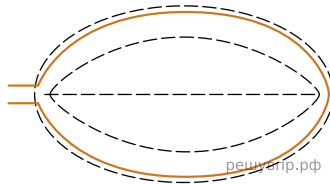
1) Перисто-лопастная



2) Перисто-раздельная



3) Перисто-рассечённая



4) Целая


**Б. Жилкование листа**




1) Параллельное



2) Дуговидное



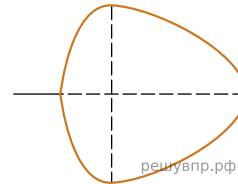
3) Пальчатое



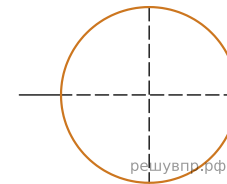
4) Перисто-сетчатое

**В. Тип листа**

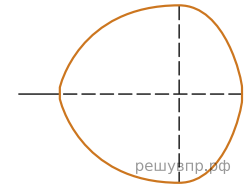
Длина равна ширине или немного её превышает.



1) Широкояйцевидный

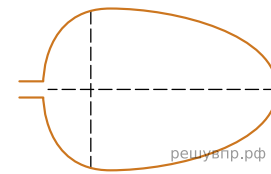


2) Округлый

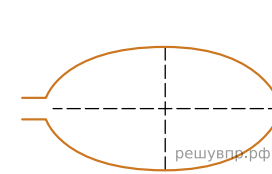


3) Обратнo-широкояйцевидный

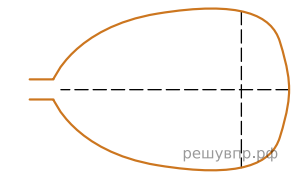
Длина превышает ширину в 1.5-2 раза.



4) Яйцевидный



5) Овальный



6) Обратнo-яйцевидный

Запишите в ответ цифры, расположив их в порядке, соответствующем буквам:

А	Б	В
<input type="text"/>	<input type="text"/>	<input type="text"/>