


Опишите цветок шиповника по следующему плану: тип цветка, тип околоцветника, тип плода, семейство. Используйте при выполнении задания линейку и карандаш.



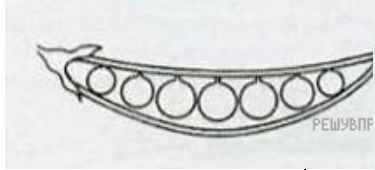





А. Тип цветка

<p>1) Цветок правильный (акиноморфный)</p>	<p>2) Цветок неправильный (зигоморфный)</p>
<p>1</p>	<p>2</p>

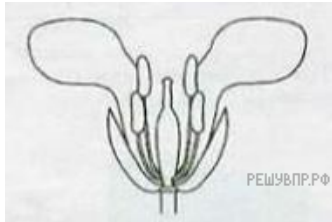
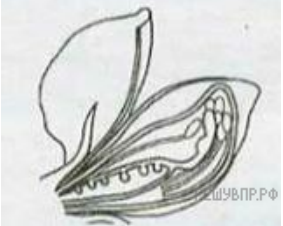


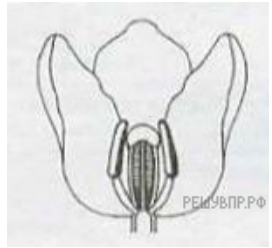
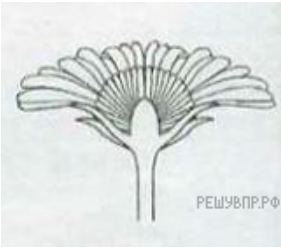
Б. Тип околоцветника — часть цветка, состоящая из зелёных листиков (чашелистиков) и цветных листиков (лепестков).

<p>1) Двойной околоцветник — чашелистики и лепестки</p>	<p>2) Простой околоцветник — чашелистики или лепестки</p>
<p>1</p>	<p>2</p>

В. Тип плода

		
1)	2)	3)
		
4)	5)	6)

Г. Семейство и соответствующая схема цветка

		
1) крестоцветные	2) бобовые	3) злаковые
		
4) розоцветные	5) лилейные	6) сложноцветные

Запишите в ответ цифры, расположив их в порядке, соответствующем буквам:

А	Б	В	Г